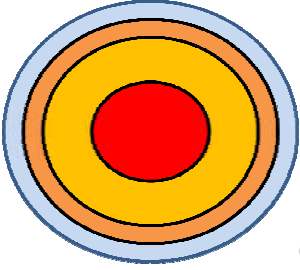




Görselde

1. Dünya'mızın uzaydan çekilmiş fotoğrafı görülmektedir. Dünya üzerinde yeşil, sarı ve kahverengi görünen kısımlar hangi katmandır?

- A) Kara katmanı
- B) Hava Katmanı
- C) Su katmanı



2. Öğretmen Defne'den Dünya'nın katmanlarını şekil çizerek göstermesini istemişti. Defne, yukarıdaki şekli çizerek Dünya'nın katmanlarını sınıf arkadaşlarına anlattı. Defne bu çizimi oluştururken bu renkleri neye göre belirlemiş olabilir?

- A) Katmanın derinliği
- B) Katmanın sıcaklığı
- C) Katmanın uzaklığı



3. Yukarıda Dünya'nın uzaydan çekilmiş fotoğrafı verilmiştir. Buna göre aşağıdaki yorumlardan hangisi doğru değildir?

- A) Mavi bölgeler denizler ve okyanuslardır.
- B) Yeşil bölgeler yer kabuğunda yer alır.
- C) Beyaz bölgeler atmosferin olmadığı alanlardır.

4. Okyanuslar, denizler, akarsular, göller, yer altı suları ve buzullar Dünya'nın hangi katmanını oluşturur?

- A) Hava küre
- B) Taş küre
- C) Su küre

5. 1 - Dünya'nın görülebilen üç tane katmanı vardır.
2- Taş küre okyanusların dibinde de devam eder.
3- Canlılar yalnızca taş kürede yaşar.
4- Rüzgar, yağış gibi olaylar hava kürede gerçekleşir.
5- Su küre denizler, okyanuslar akarsular gibi su yapılarından oluşur.

Yukarıdaki tablolarda yer alan bilgilerin bazıları doğru, bazıları yanlıştır.

Doğru-Yanlış sıralaması aşağıdaki seçeneklerin hangisinde doğru olarak verilmiştir?

- A) D - Y - D - D - D
- B) D - D - Y - D - D
- C) D - D - Y - Y - D

6. - Dünya küre şeklindedir.

- Dünya'nın büyük bir kısmı su katmanı ile kaplıdır.
- Hava katmanı görülmez ama havanın etkisi hissedilir.

Aşağıdaki gözlemlerden hangisi yukarıda verilen bilgilerle ilgili değildir?

- A) Kara katmanının dağların olduğu yerde kalın, okyanus diplerinde ince olması.
- B) Ankara'dan kalkan bir uçağın sürekli aynı yönde hareket etmesi sonucu tekrar Ankara'ya ulaşması.
- C) Dünya'nın uzaydan görüntüsünün mavi bir küreye benzemesi.

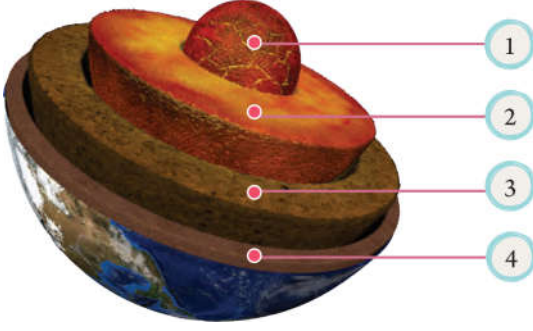
7. - Dünya'nın en iç katmanı,

- Dünya'nın en sıcak katmanı,
- Dünya'nın en kalın katmanı,
- Dünya'nın en kalın katmanı,

Yukarıda Dünya'nın katmanları ile ilgili enler verilmiştir.

Buna göre verilen katmanlardan hangisi Dünya'nın enlerinden birisi değildir?

- A) Taş küre
- B) Hava küre
- C) Çekirdek



8.

Yukarıdaki görselde Dünya'mızın katmanları gösterilmiştir.

Aşağıdaki eşleştirmelerden hangisi doğru değildir?

- A) 3 - Manto
B) 4 - Hava küre
C) 1 - İç çekirdek

Ç M R Y P E A L
T E Ü M A N T O
R G K L D M M D
D V M I V L O D
Ö Y Ö Ç R M S S
I P L H Y D F O
A S U K Ü R E M

9.

Yukarıdaki bulmacada Dünya'nın katmanları gizlenmiştir.



Aşağıdaki katmanlardan hangisi bu bulmacada yer almaz?

- A) Atmosfer
B) Su küre
C) Yer kabuğu

10. Öğretmen, öğrencilerinden Dünya'nın iç kısmında bulunan katmanların isimlerini bir kâğıda yazmalarını istemiştir.

Buna göre hangi öğrenci öğretmenin sorusunu doğru cevaplamıştır?

- A) Ege: Manto - Su katmanı - Atmosfer
B) Efe: İç çekirdek - Atmosfer - Manto
C) Kaan: İç çekirdek - Dış çekirdek - Manto



11.

- 1 - Depremler bu katmanda meydana gelir.
2- Bu katmanı göremeyiz ancak hissederiz.
3- Okyanus, akarsular, göller ve denizlerden oluşur.

Yukarıdaki bulmacada çıkan anahtar sözcük hangisidir?

- A) YAT
B) KAT
C) KAR

12. - Dünya'nın merkezinde yer alan bu katman en sıcak katmandır.

- İç çekirdeği saran katmandır. Sıcaklığı iç çekirdekten daha azdır.
- Dış çekirdek ile yer kabuğu arasında yer alır. Yapısında erimiş kayaların oluşturduğu magma bulunur.
- Dünya'nın yüzeyini oluşturan ve canlıların yaşadığı katmandır. Bu katman deniz ve okyanus diplerinde ince, karaların olduğu bölgelerde daha kalındır.

Yukarıdaki bilgilerde hangi katmana yer verilmemiştir?

- A) Hava katmanı
B) Yer kabuğu
C) Manto