

1. Gökyüzünde uçan bir kuş olsaydınız okulunuzu ve bahçesini yukarıdan nasıl görürdünüz?

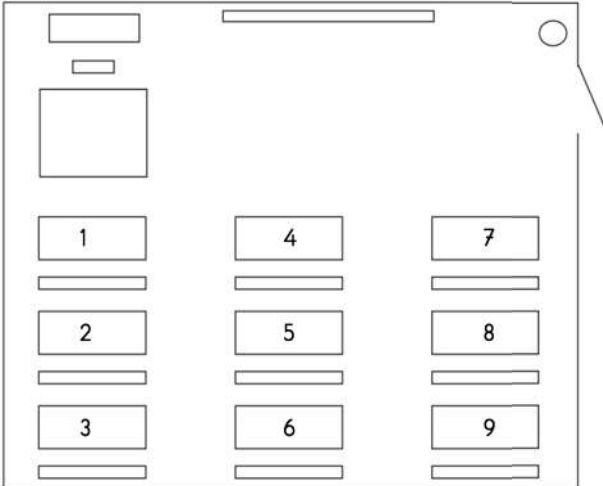
- A) Kuş bakışı B) Kuşgözü  
C) Kuş uçuşu

2. Belirli özelliklere göre bir yerin görünüşünü küçülterek kâğıt üzerine çizersek aşağıdakilerden hangisini yapmış oluruz?

- A) Plan B) Kroki  
C) Harita

3. Kroki çizimi ile ilgili aşağıdakilerden hangisi yanlıştır?

- A) Kroki, bir yere yukarıdan bakıyormuş gibi çizilir.  
B) Kroki çizerken kare, dikdörtgen, üçgen, daire gibi geometrik şekillerden ve cetvelden faydalanabiliriz.  
C) Krokiyi belirli bir ölçü kullanarak çizeriz.



4. Mehmet kapı tarafından ikinci sırada oturmaktadır. Krokiye göre Mehmet kaç numaralı sırada oturmaktadır?

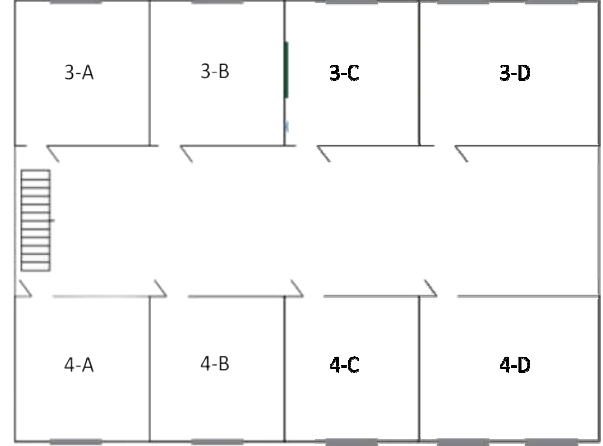
- A) 6 B) 9 C) 8

5. Ezgi orta sıralardan üçüncü sırada oturmaktadır. Krokiye göre Ezgi kaç numaralı sırada oturmaktadır?

- A) 3 B) 6 C) 9

6. Elif krokiye göre 5. Sırada oturmaktadır. Elif'in arkasında Ela ve Ela'nın solunda Rana oturduğuna göre Rana hangi sırada oturmaktadır?

- A) 3 B) 6 C) 9

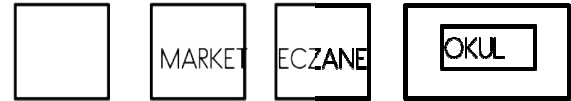


7. Krokiye göre koridorun sonunda solda hangi sınıf vardır?

- A) 3-D B) 4-C C) 3-A

8. Krokiye göre 4-C sınıfının karşısında hangi sınıf vardır?

- A) 4-B B) 3-C C) 3-A



9. Krokiye göre okulun karşısında hangisi vardır?

- A) MARKET B) CAMİ C) PARK

10. Alî'nin evi hangisindedir?

- A) Anıt Sokak  
B) Cumhuriyet Caddesi  
C) Güneş Sokak

11. Krokiye göre hastanenin karşısında hangisi yoktur?

- A) MANAV B) OKUL C) CAMİ

12. Aşağıdakilerden hangisinin krokisi çizilmez?

- A) Ülkemizin  
B) Evimizin  
C) Mahallemizin