
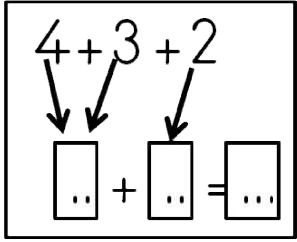


TOPLAMA İŞLEMİ DEĞERLENDİRME TESTİ -1-



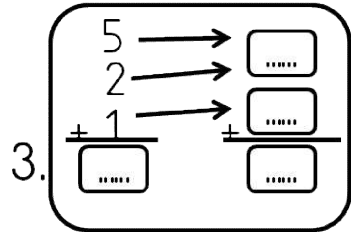
1. Yukarıda modellenen toplama işlemi hangisidir?

- A) $5+4$ B) $5+3$ C) $5+5$



2. Yukarıdaki işlemin sonucu hangisidir?

- A) 7 B) 5 C) 9



3. Yandaki işlemin sonucu hangisidir?

- A) 7 B) 8 C) 9

4. Aşağıdaki işlemlerden hangisinin sonucu yanlıştır?

- A) $2 + 4 + 4 = 10$
B) $3 + 3 + 3 = 9$
C) $2 + 2 + 5 = 8$

İnteraktif Eğitim

$$\begin{array}{r} 7 \\ + 2 \\ \hline 5 + 4 = \boxed{\dots} \end{array}$$

5. Yukarıda boş bırakılan yere aşağıdakilerden hangisi yazılmalıdır?

- A) 9 B) 7 C) 8

6. $\begin{array}{r} 7 \\ + 5 \\ \hline \boxed{} \end{array}$ Yandaki işlemin sonucu hangisidir?

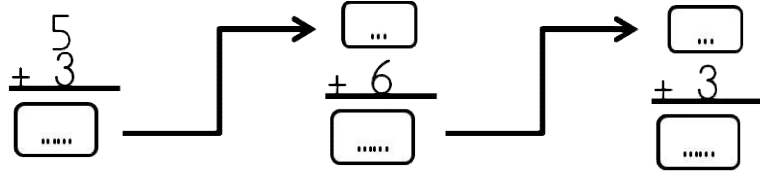
- A) 10 B) 11 C) 12

7. $\begin{array}{l} \boxed{9} + \boxed{5} = \dots \\ \boxed{9} + \boxed{6} = \dots \\ \boxed{9} + \boxed{7} = \dots \end{array}$ Aşağıdakilerden hangisi yandaki işlemlerin sonuçlarından birisi değildir?

- A) 14 B) 16 C) 17

8. Aşağıdaki işlemlerden hangisinin sonucu yanlıştır?

- A) $6 + 6 + 5 = 17$
B) $6 + 3 + 5 = 15$
C) $5 + 6 + 7 = 8$




9. Yukarıdaki işlemin sonucu aşağıdakilerden hangisidir?

- A) 17 B) 18 C) 19

10.
$$\begin{array}{r} 9 \\ 0 \\ + 4 \\ \hline \end{array}$$
 Yandaki işlemin sonucu hangisidir?

- A) 10 B) 12 C) 13

11.  Yandaki toplama işleminde verilmeyen sayı hangisidir?

- A) 4 B) 5 C) 6

12. $9 + \dots = 16$ İşleminde verilmeyen hangisidir?

- A) 6 B) 7 C) 8

13.

$$\begin{array}{r} \dots \\ + 2 \\ \hline 7 \end{array}$$

Yandaki işlemde verilmeyen hangisidir?

- A) 3 B) 4 C) 5

14.

$$\begin{array}{r} \dots \\ + 3 \\ \hline 9 \end{array}$$

Yandaki işlemde verilmeyen hangisidir?

- A) 6 B) 5 C) 4

15.

$$\dots + 6 = 15$$

Yukarıdaki işlemde verilmeyen hangisidir?

- A) 10 B) 8 C) 9