

1. Aşağıdaki karşılaştırmalardan hangisi yanlıştır?

- A)  $\frac{5}{6} > \frac{3}{6}$       B)  $\frac{2}{3} > \frac{2}{5}$   
 C)  $\frac{3}{6} < \frac{5}{6}$       D)  $\frac{3}{4} < \frac{1}{6}$

2. Aşağıdaki karşılaştırmalardan hangisi yanlıştır?

- A)  $\frac{3}{4} > \frac{7}{12}$       B)  $\frac{3}{4} > \frac{7}{12}$   
 C)  $\frac{7}{12} > \frac{3}{4}$       D)  $\frac{7}{12} < \frac{3}{4}$

3. Aşağıdaki sıralamalardan hangisi doğrudur?

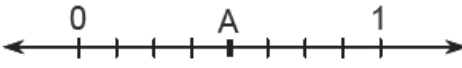
- A)  $\frac{1}{4} < \frac{3}{6} < \frac{8}{9}$   
 B)  $\frac{8}{9} < \frac{3}{6} < \frac{1}{4}$   
 C)  $\frac{3}{6} < \frac{8}{9} < \frac{1}{4}$   
 D)  $\frac{8}{9} < \frac{1}{4} < \frac{3}{6}$

4. Aşağıdakilerden hangisinin büyükten küçüğe doğru sıralanışı doğrudur?

- A)  $\frac{7}{9} > \frac{7}{5} > \frac{7}{3} > \frac{7}{1}$   
 B)  $\frac{9}{7} > \frac{5}{7} > \frac{3}{7} > \frac{1}{7}$   
 C)  $\frac{1}{7} > \frac{3}{7} > \frac{5}{7} > \frac{9}{7}$   
 D)  $\frac{3}{7} > \frac{5}{7} > \frac{1}{7} > \frac{9}{7}$

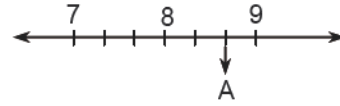
5. Aşağıdakilerden hangisinin küçükten büyüğe doğru sıralanışı doğrudur?

- A)  $\frac{3}{11} > \frac{3}{9} > \frac{3}{8} > \frac{3}{2}$   
 B)  $\frac{11}{3} < \frac{9}{3} < \frac{8}{3} < \frac{2}{3}$   
 C)  $\frac{11}{3} > \frac{9}{3} > \frac{8}{3} > \frac{2}{3}$   
 D)  $\frac{3}{11} < \frac{3}{9} < \frac{3}{8} < \frac{3}{2}$

6.  Şekilde sayı doğrusunda A noktasına karşılık gelen kesir aşağıdakilerden hangisidir?

A)  $\frac{1}{8}$       B)  $\frac{1}{4}$

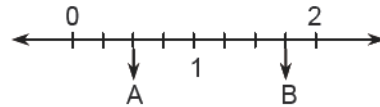
C)  $\frac{1}{2}$       D)  $\frac{3}{4}$



7. Yukarıdaki sayı doğrusu üzerinde A noktasına karşılık gelen kesir aşağıdakilerden hangisidir?

A)  $\frac{22}{3}$       B)  $\frac{24}{3}$

C)  $\frac{25}{3}$       D)  $\frac{26}{3}$



8. Yukarıda verilen sayı doğrusunda A ve B noktalarına karşılık gelen kesirler için aşağıdakilerden hangisi doğrudur?

- A)  $A < B$       B)  $A > B$   
 C)  $A = B$       D)  $A > B > 1$

9. Aşağıdaki kesirlerin büyükten küçüğe doğru sıralanışı hangi seçenekte verilmiştir?

- A)  $\frac{3}{14} > \frac{6}{20} > \frac{1}{18}$       B)  $\frac{3}{14} > \frac{1}{18} > \frac{6}{20}$   
 C)  $\frac{6}{20} > \frac{3}{14} > \frac{1}{18}$       D)  $\frac{6}{20} > \frac{1}{18} > \frac{3}{14}$

10.  $3\frac{1}{6} < \frac{m}{18}$  sıralamasında m nin alabileceği en küçük doğal sayı değeri kaçtır?

- A) 55      B) 56  
 C) 57      D) 58

11.  $\frac{7}{10} < \frac{B}{30} < \frac{14}{15}$  B yerine yazılabilecek en büyük ve en küçük doğal sayıların toplamı hangisidir?

- A) 36  
 B) 48  
 C) 74  
 D) 56

12.  $3\frac{2}{5} > \frac{A}{10}$  Karşılaştırmada A yerine yazılabilecek en büyük sayı hangisidir?

- A) 16      B) 24  
 C) 27      D) 33