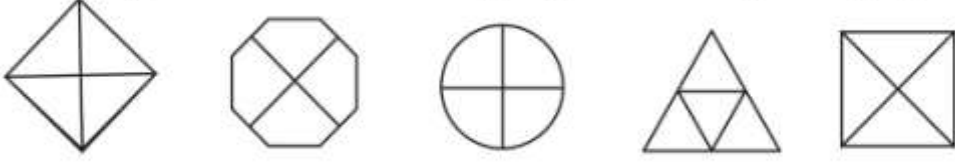
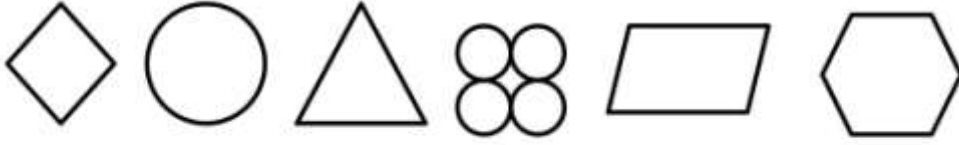


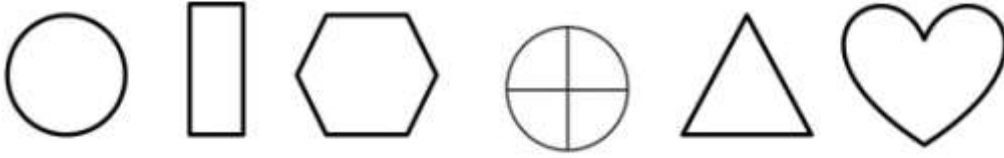
1. Aşağıdaki şekillerin çeyreğini kırmızıya boyayınız.



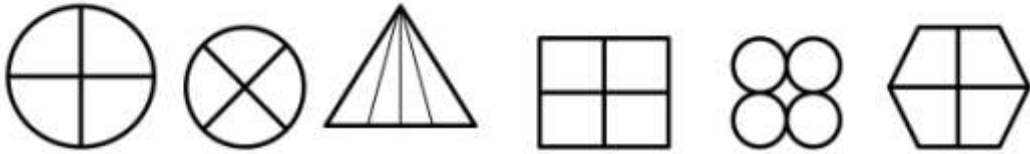
2. Aşağıdaki şekillerin tamamını boyayınız.



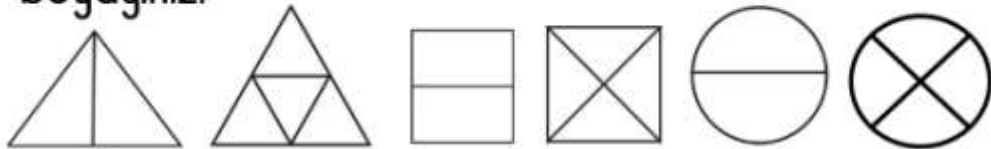
3. Aşağıdaki şekillerin yarısını boyayınız.



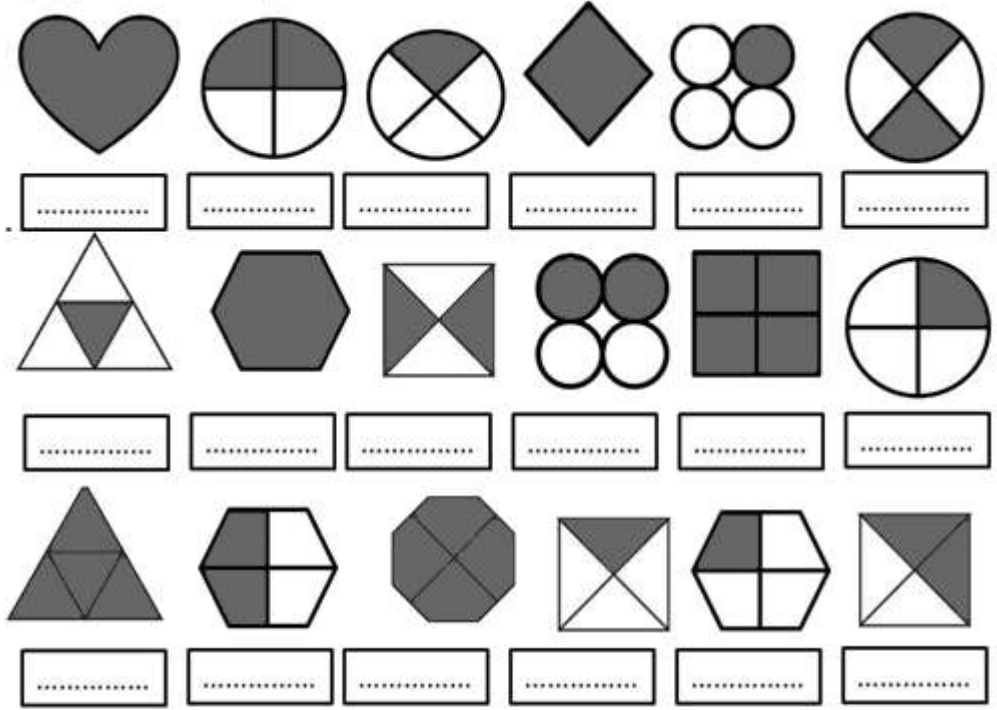
4. Aşağıdaki şekillerin çeyreğini boyayınız.



5. Aşağıdaki şekillerin yarısını gösterenlerin yarısını maviye, çeyreği gösterenlerin çeyreğini kırmızıya boyayınız.



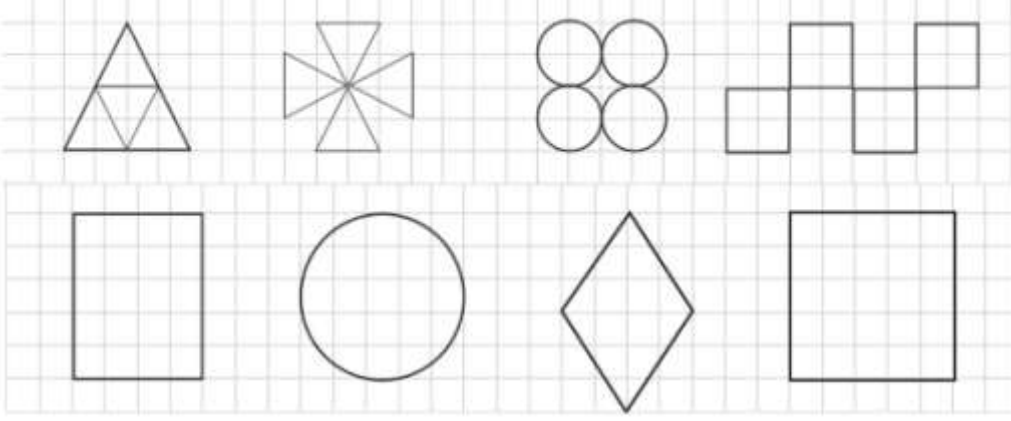
6. Aşağıdaki şekillerin boyalı bölümlerini "bütün, yarım, çeyrek" olarak yazın.




7. Aşağıdaki çeyrek varlıkların kaç bütün ettiğini bulun.

	.....
	.....
	.....

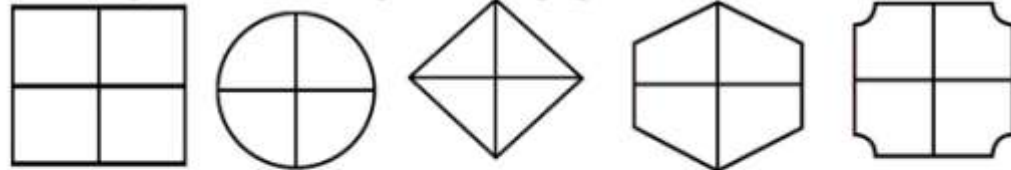
8. Aşağıdaki şekillerin çeyreğini boyayınız.



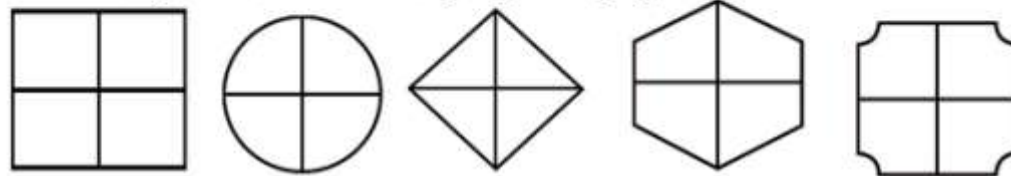
9. Aşağıdaki varlıkların yarısını ayarınız.




9. Aşağıdaki şekillerin yarısını boyayınız.



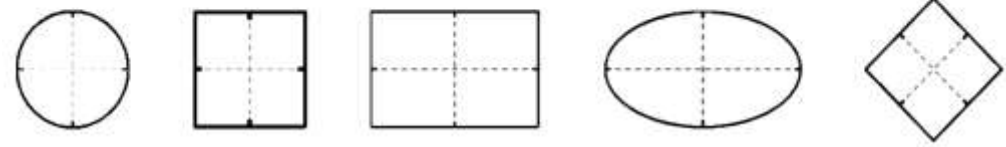
10. Aşağıdaki şekillerin çeyreğini boyayınız.



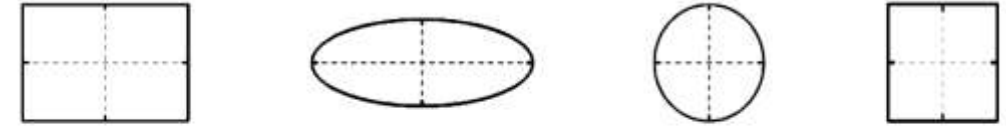
11. Aşağıdaki şekillerin yarısını boyayınız.



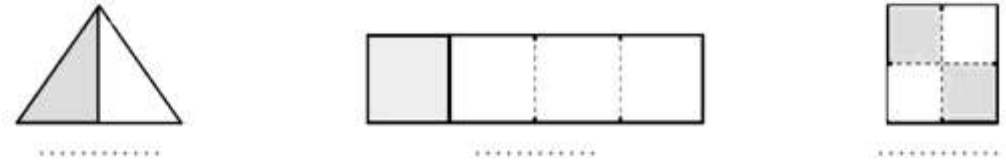
12. Aşağıdaki şekillerin çeyreğini boyayınız.



13. Aşağıdaki şekillerin üç çeyreğini boyayınız.



14. Aşağıdaki şekillerin ne kadarının boyalı olduğunu yazınız.



15. Aşağıdaki çoklukların çeyreğini boyayınız.

