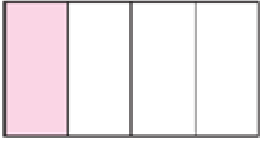


1.  Yandaki şekil hangisine eşittir?

- A) Bütün
B) Yarım
C) Çeyrek

2.  Yandaki şekil hangisine eşittir?

- A) Bütün
B) Yarım
C) Çeyrek

3. $\frac{1}{4}$ Yandaki kesir aşağıdakilerden hangisini gösterir?

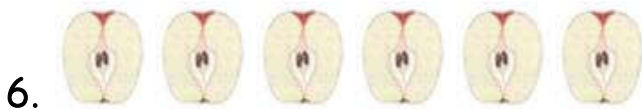
- A) Bütün
B) Yarım
C) Çeyrek

4. $\frac{1}{2}$ Yandaki kesir aşağıdakilerden hangisini gösterir?

- A) Bütün
B) Yarım
C) Çeyrek

5. 3 yarım kaç çeyrekten oluşur?

- A) 6
B) 8
C) 12



6. Yandaki görselde verilenler kaç bütünü oluşturur?

- A) 2
B) 3
C) 4

7. 3 bütünde kaç tane yarım vardır?

- A) 6
B) 9
C) 12

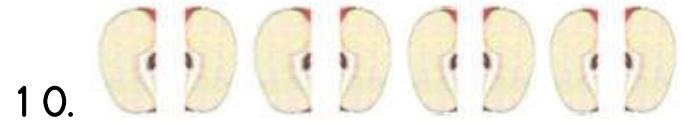


8. Yanda verilen elmalardan kaç tane yarım elde edilir?

- A) 4
*B) 8
C) 16


9. 8 çeyrek kaç tane bütün oluşturur?

- A) 1
B) 2
C) 4

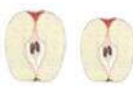


10. Yandaki görsellerde verilen parçalar kaç bütüne eşittir?

- A) 3
B) 4
C) 6

11.  Yandaki şekil aşağıdakilerden hangisine eşittir?

- A) Bütün
B) Yarım
C) Çeyrek

12.  Yandaki görsel kaç tane çeyrekten oluşur?

- A) 4
B) 8
C) 12