




1.  Yandaki nesne için aşağıdaki ifadelerden hangisini kullanabiliriz?

- A) Yarım
B) Çeyrek
C) Bütün

2.  Yandaki nesne için aşağıdaki ifadelerden hangisini kullanabiliriz?

- A) Yarım
B) Çeyrek
C) Bütün

3.  Yandaki nesne için aşağıdaki ifadelerden hangisini kullanabiliriz?

- A) Yarım
B) Çeyrek
C) Bütün

4.  Yandaki şeklin gösteren kesir hangisidir?

- A) $\frac{1}{4}$
B) $\frac{1}{3}$
C) $\frac{1}{2}$

5.  Yandaki şeklin gösteren kesir hangisidir?

- A) $\frac{1}{4}$
B) $\frac{1}{3}$
C) $\frac{1}{2}$

6.  Yandaki şeklin gösteren kesir hangisidir?


- A) $\frac{1}{4}$
B) $\frac{1}{3}$
C) $\frac{1}{2}$

7.  Yandaki şekli gösteren kesrin payı hangisidir?

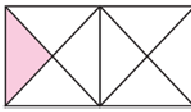
- A) 7
B) 2
C) 5

8.  Yandaki şekli gösteren kesrin paydası hangisidir?

- A) 2
B) 5
C) 3

9.  Aşağıdakilerden hangisi yandaki şekli belirten kesrin pay ya da paydasından birisi değildir?

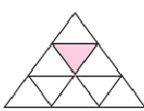
- A) 1
B) 3
C) 4

10.  Aşağıdakilerden hangisi yandaki şekli belirten kesrin pay ya da paydasından birisi değildir?

- A) 7
B) 1
C) 8

11.  Yandaki şekli gösteren kesrin payı hangisidir?

- A) 4
B) 5
C) 9

12.  Yandaki şeklin kesrini oluşturan kesrin pay ve paydasının toplamı kaçtır?

- A) 8
B) 9
C) 10