


1. Yandaki şekilde boyalı kısmı oluşturan kesrin payı hangisidir?

- A) 6  
B) 5  
C) 3



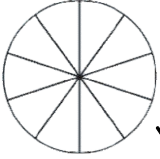
2. Yandaki şekilde boyalı kısmı oluşturan kesrin payı hangisidir?

- A) 3  
B) 2  
C) 5



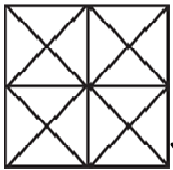
3. Yandaki şekilden payı paydasından küçük kesirleri yazarsak aşağıdakilerden hangisi bu kesirlerin gösterdiği paylardan birisi olamaz?

- A) 7  
B) 5  
C) 3



4. Yandaki şekilden payı paydasından küçük kesirleri yazarsak aşağıdakilerden hangisi bu kesirlerin gösterdiği paylardan birisi olamaz?

- A) 11  
B) 9  
C) 7



5. Yandaki şekilden payı paydasından küçük kesirleri yazarsak aşağıdakilerden hangisi bu kesirlerin gösterdiği paylardan birisi olamaz?

- A) 13  
B) 17  
C) 15

6. Paydası 9 olan payı paydasından küçük olan bir kesrin payı hangisi olamaz?

- A) 7  
B) 8  
C) 10

7. Paydası 7 olan payı paydasından küçük olan bir kesrin payı hangisi olamaz?

- A) 5  
B) 6  
C) 8

8. Aşağıda verilen kesirlerden hangisinin payı paydasından küçük değildir?

- A)  $\frac{3}{10}$   
B)  $\frac{8}{5}$   
C)  $\frac{5}{7}$

9. Aşağıda verilen kesirlerden hangisinin payı paydasından küçük değildir?

- A)  $\frac{7}{3}$   
B)  $\frac{4}{6}$   
C)  $\frac{3}{5}$

10. Payı paydasından küçük olan bir kesrin payı 9 ise paydası hangisi olamaz?

- A) 8  
B) 11  
C) 13

11. Payı paydasından küçük olan bir kesrin payı 8 ise paydası hangisi olabilir?

- A) 5  
B) 9  
C) 7

12.  $\frac{\square}{7} < \frac{4}{7}$  Yanda karşılaştırması yapılan kesirlerde boş bırakılan yere hangisi yazılabilir?

- A) 6  
B) 5  
C) 3