

Zamanı Ölçme -2-

1. Aşağıdaki saatlerin kaç gösterdiğini altına yazınız.



saat:



saat:.....



saat:



saat:



saat:




saat:



saat:




saat:



saat:




saat:



saat:




saat:



saat:



saat:



saat:



saat:

2. Aşağıdaki saatleri yelkovan ve akrebin konumlarını çiziniz.



saat: 10



saat: 7



saat: 4



saat: 2



saat: 11




saat: 8




saat: 12



saat: 6



saat: 3.30




saat: 5.30



saat: 8.30



saat: 1.30



saat: 4.30



saat: 12.30





saat: 3.30




saat: 9.30

3. Ortadaki saate göre öncesini ve sonrasını akrep ve yelkovanı çizerek gösteriniz.

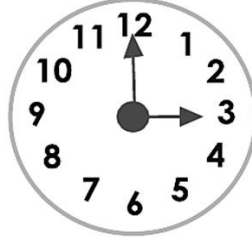
1 saat öncesi




Yarım saat sonrası





1 saat öncesi




Yarım saat sonrası





1 saat öncesi



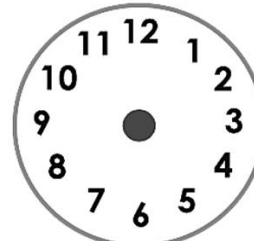
Yarım saat sonrası



1 saat öncesi



Yarım saat sonrası



4. Aşağıdaki saatlerin kaç gösterdiğini altına yazınız.



Öğleden önce :

Öğleden sonra :



Öğleden önce :

Öğleden sonra :



Öğleden önce :

Öğleden sonra :



Öğleden önce :

Öğleden sonra :



Öğleden önce :

Öğleden sonra :



Öğleden önce :

Öğleden sonra :



Öğleden önce :

Öğleden sonra :



Öğleden önce :

Öğleden sonra :



Öğleden önce :

Öğleden sonra :



Öğleden önce :

Öğleden sonra :



Öğleden önce :

Öğleden sonra :



Öğleden önce :

Öğleden sonra :