

Verilen işleme uygun olacak şekilde problemleri tamamlayıp çözüünüz.

1 - Kerem'in ..... tane cevizi vardı. .... tanesini Ada'ya verdi. Kerem'in kaç tane cevizi kaldı?

$$\boxed{10} - \boxed{7} = \boxed{\phantom{00}}$$

2- Beren, ..... tane kitabın ... 'sını okudu. Geriye kaç kitap kaldı?

$$\boxed{12} - \boxed{5} = \boxed{\phantom{00}}$$

3- Dalda ..... tane kuş vardı. .... tanesi uçtu. Dalda kaç kuş kaldı?

$$\boxed{11} - \boxed{8} = \boxed{\phantom{00}}$$

4- Zeynep manavdan ..... tane elma aldı. Elmaların .... tanesini Buğlem'e verdi. Zeynep'in kaç elması kaldı?

$$\boxed{14} - \boxed{9} = \boxed{\phantom{00}}$$

5- Elif ..... tane kalemin .... tanesini Eminenur'a verdi. Geriye kaç kalemi kaldı?

$$\boxed{12} - \boxed{7} = \boxed{\phantom{00}}$$

Verilen bilgileri kullanarak verilen işleme uygun problem yazınız.

6- .....

Kaan

şeker

$$10 - 5 = \square$$

7- .....

Alen

fındık

$$14 - 6 = \square$$

8- .....

Duru

çilek

$$13 - 9 = \square$$

9- .....

Defne

kiraz

$$14 - 5 = \square$$


10- .....

Mert


ceviz

$$17 - 9 = \square$$


Verilen görsellere uygun problemler yazıp çözüünüz?




1 1. ....  
.....  
.....



1 2. ....  
.....  
.....



1 3. ....  
.....  
.....



1 4. ....  
.....  
.....

Verilen problemleri soruları cevaplayarak çözüünüz?

1 5. Bir sınıfta bulunan 1 5 öğrencinin tanesi kız öğrencidir. Bu sınıfta kaç tane kız öğrenci vardır?

Sınıfta kaç öğrenci vardı?

Kaç tanesi kız öğrencidir?

Kaç tane erkek öğrenci vardır?

$$\begin{array}{r} \square \\ \square \\ \hline \square \end{array}$$

1 6. Bir dalda bulunan 1 7 kuştan 8 tanesi uçtu. Geriye kaç kuş kaldı?

Dalda kaç kuş vardı?

Kaç kuş uçtu?

Geriye kaç kuş kaldı?

$$\begin{array}{r} \square \\ \square \\ \hline \square \end{array}$$

1 7. Orhan 1 6 fıncığın 9 tanesini Ömer'e verdi. Orhan'ın kaç fıncığı kaldı?

Orhan'ın kaç fıncığı vardı?

Ömer'e kaç fıncık verdi?

Orhan'ın kaç fıncığı kaldı?

$$\begin{array}{r} \square \\ \square \\ \hline \square \end{array}$$

1 8. Ebru, 1 8 çıkarma probleminin 9 tanesini çözdü. Geriye kaç problem kaldı?

Kaç tane çıkarma problemi vardı?

Ebru kaç tanesini çözdü?

Geriye kaç problem kaldı?

$$\begin{array}{r} \square \\ \square \\ \hline \square \end{array}$$