

1. Ülkemizde en çok can ve mal kaybına yol açan hangisidir?

- A) Trafik kazası
- B) Elektrik çarpması
- C) Ev kazası

2. Trafikte kırmızı ışık, yayalar ve araçlar için hangi anlama gelir?

- A) Geç
- B) Dur
- C) Hazır ol

3. Kırmızı ışığı gören yayalar ne yapmalıdır?

- A) Karşıya geçmelidir.
- B) Yeşil ışığı yakmalıdır.
- C) Işık sönene kadar kaldırımda durmalıdır.




4. Trafikte yeşil ışık, yayalar ve araçlar için ne anlama gelir?

- A) Dur
- B) Geç
- C) Bekle

5. Yayalara kırmızı ışık yanarken araçlara hangi ışık yanar?


- A) Yeşil
- B) Mavi
- C) Kırmızı

6. Aşağıdakilerden hangisi yayaların yolun karşısına güven içinde geçmesi için kullanılan trafik levhasıdır?


- A) 
- B) 
- C) 

7.  Görseldeki işaretin anlamı nedir?

- A) Kaldırım
- B) Yaya geçidi
- C) Araç yolu

8.  işaretini gören sürücü ne yapar?

- A) Hızını artırarak geçer.
- B) Hızlarını azaltır ve durur.
- C) Yolu kapatarak trafiği durdurur.

9.  Bu işaret levhasının anlamı nedir?

- A) Bisiklet giremez.
- B) Bisiklet yolu.
- C) Bisiklet çıkabilir.

10. Trafik işaretlerinin olmadığı yerlerde, güvenli bir şekilde karşıya geçmek için hangisi uygundur?

- A) Taşıt yolu
- B) Üst geçit
- C) Yaya kaldırımı

11. Trafikte yayaların yürüdüğü yola ne ad verilir?

- A) Sokak
- B) Cadde
- C) Kaldırım

12. Aşağıdakilerden hangisi yanlıştır?

- A) Duran araçların önünden ve arkasından geçmek tehlikelidir.
- B) Karşıya geçerken koşmalıyız.
- C) Karşıya geçerken trafik polisinin yönlendirmelerine uyarız.