





Aşağıdaki test sorularını cevaplayalım.

1.  Aşağıdakilerden hangisi yandaki bütüne eşittir?



2.  Aşağıdakilerden hangisi yandaki bütünlere eşittir?



3.  Aşağıdakilerden hangisi yandaki bütünlere eşittir?




4.  Yandaki yarım elmalar kaç bütün elma olur?

A) 1 elma

B) 2 elma

C) 3 elma

5.  Yandaki yarım limonlar kaç bütün limona olur?

A) 1 limona

B) 2 limona


C) 3 limona

6.  Yukarıdaki karpuzlar kaç bütün eder?

A) 2

B) 3

C) 5

7.  Yukarıdaki elmalar kaç bütün eder?

A) 2


B) 3

C) 5



Yukarıdaki karpuzlar kaç yarım eder?

- A) 4
- B) 6
- C) 8



Yukarıdaki elmalar kaç yarım eder?

- A) 10
- B) 8
- C) 6



Yukarıdaki portakallar kaç bütün eder?

- A) 3
- B) 4
- C) 5



Yukarıdaki portakallar kaç yarım eder?

- A) 11
- B) 12
- C) 13




Yukarıdaki yarımalar kaç bütün eder?

- A) 9
- B) 3
- C) 6



Yukarıdaki bütünler kaç yarım eder?

- A) 12
- B) 6
- C) 8



Yukarıdaki limonlar kaç yarım eder?

- A) 6
- B) 8
- C) 10

15. Aşağıdaki eşleştirmelerden hangisi yanlıştır?

- A) 6 yarım 3 bütün eder.
- B) 2 bütün 8 yarım eder.
- C) Her bütün 2 yarımından oluşur

16. 10 yarım kaç bütüne eşittir?

- A) 3
- B) 4
- C) 5