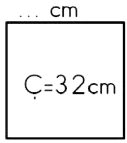
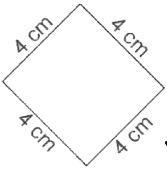


1. ACDB karesinin çevresi kaç birimdir?
 A) 32 br
 B) 16 br
 C) 48 br
 D) 24 br



2. Yukarıdaki karenin bir kenarı kaç cm'dir?
 A) 4 cm
 B) 16 cm
 C) 10 cm
 D) 8 cm

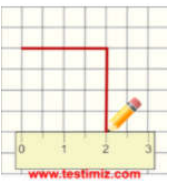


3. Yukarıdaki karenin çevresi hangisine eşittir?
 A) 16 cm
 B) 12 cm
 C) 8 cm
 D) 20 cm




4. Yukarıda verilen karenin çevresi kaç cm'dir?
 A) 28 cm
 B) 42 cm
 C) 49 cm
 D) 14 cm

5. Bir kenarı 13 cm olan karenin çevresi kaç cm'dir?
 A) 39 cm
 B) 52 cm
 C) 26 cm
 D) 48 cm

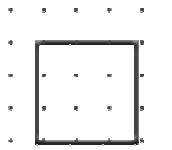


6. Yukarıda çizimi verilen karenin çevresi kaç cm olur?
 A) 12 cm
 B) 8 cm
 C) 16 cm
 D) 4 cm



7. Yukarıda verilen karenin çevresi kaç birimdir?
 A) 14 br
 B) 7 br
 C) 28 br
 D) 21 br

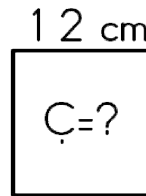
8. Çevresi 48 cm olan karenin bir kenarı kaç cm'dir?
 A) 24 cm
 B) 8 cm
 C) 16 cm
 D) 12 cm



9. Noktalı kağıtta verilen karenin çevresi kaç birimdir?
 A) 3 br
 B) 9 br
 C) 15 br
 D) 12 br

10. Birbirine eşit bir kare ve dikdörtgenden dikdörtgenin çevresi 32 cm ise karenin bir kenarı kaç cm olur?
 A) 24 cm
 B) 12 cm
 C) 16 cm
 D) 8 cm

11. Bir kenarı 10 cm olan iki kare yan yana getirilirse oluşan şeklin çevresi kaç cm olur?
 A) 80 cm
 B) 20 cm
 C) 40 cm
 D) 60 cm



12. Verilen şekil bir karedir. Çevresi kaç cm'dir?
 A) 36 cm
 B) 48 cm
 C) 24 cm
 D) 64 cm